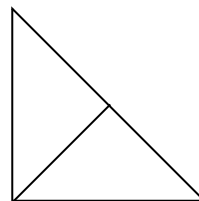




BÀI TẬP ĐẾM HÌNH TOÁN LỚP 1

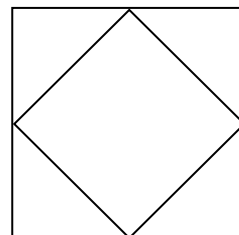
Bài 1 Điền số thích hợp vào chỗ chấm.

Có :hình tam giác




Bài 2: Hình bên có:

- hình tam giác.
- hình vuông



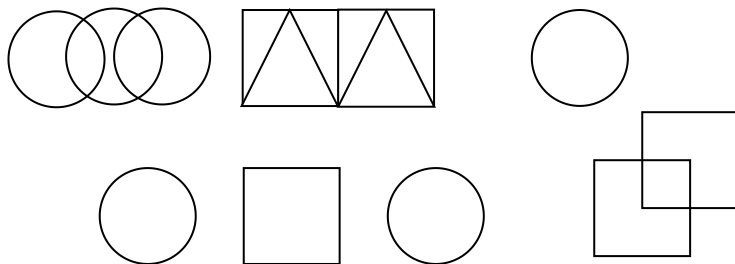
Bài 3: Hình bên có mấy hình vuông?



Có hình vuông.

Có hình chữ nhật.

Bài 4



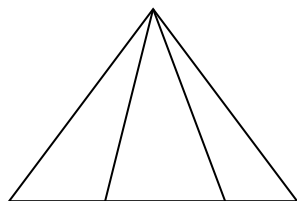
a) Có..... hình tròn.

b) Có hình tam giác.

c) Có hình vuông.

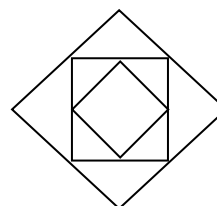
Bài 5 Trong hình dưới đây

a/



Có hình tam giác

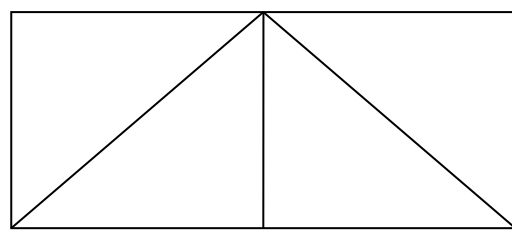
b/



Có hình vuông

Bài 6: Khoanh vào chữ cái trước ý trả lời đúng:

Hình bên có số hình tam giác là:



A. 4

B. 5

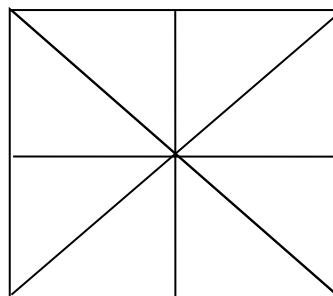
C. 6

Bài 7: Hình vẽ bên có:

..... hình tam giác

..... hình vuông

.....hình chữ nhật

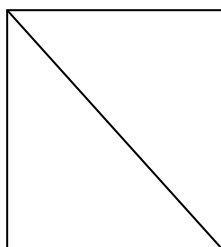


Bài 8:

Hình vẽ bên có:

- Có.....hình tam giác

- Có.....hình vuông

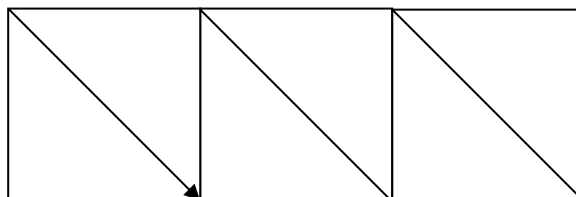


Bài 9: Hình vẽ bên có:


- Có.....hình tam giác

- Có.....hình vuông

- Có hình chữ nhật



Câu 10 . Trong hình dưới đây có mấy hình vuông?

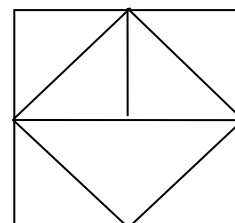


- Có.....hình vuông

Bài 11: Hình bên có:

- hình tam giác.

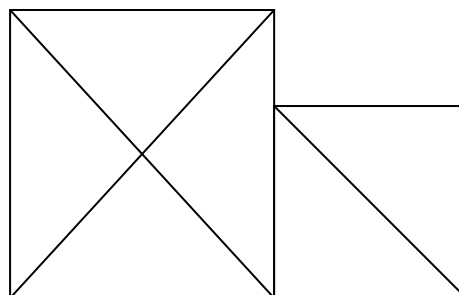
- hình vuông



Bài 12: Hình bên có:

- hình tam giác.

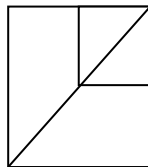
- hình vuông





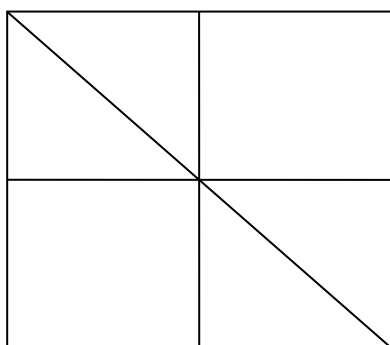
Bài 13: Hình bên có:

- Có hình vuông
- Có hình tam giác



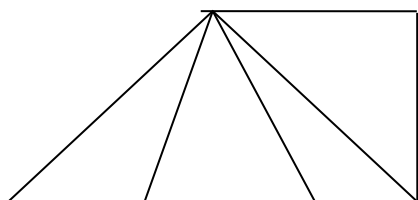
Bài 14: Hình bên có:

Có hình vuông Có hình chữ nhật. Có hình tam giác



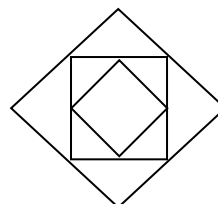
Bài 15: Hình dưới có

a



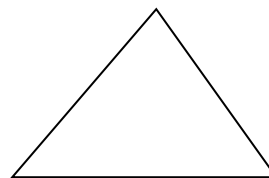
Có hình tam giác

b/

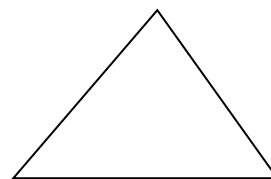


Có hình vuông

Bài 16 Vẽ thêm một đoạn thẳng để có 3 hình tam giác.

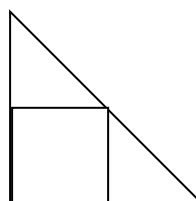


Bài 17 Vẽ thêm một đoạn thẳng để có 2 hình tam giác.



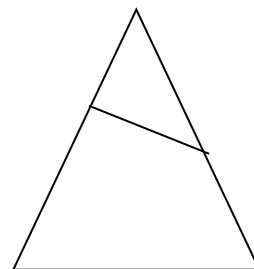
Bài 18: Hình bên có:

Có hình vuông
Có hình tam giác





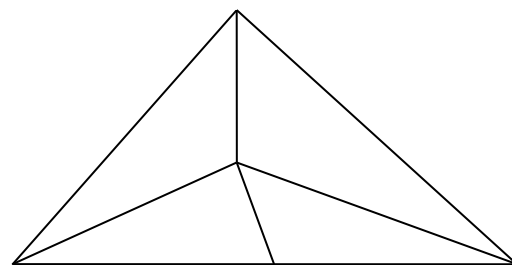
Bài 19 Kẻ thêm 1 đoạn thẳng để có 3 hình tam giác.



Bài 20 Hình bên có:

Có hình vuông

Có hình tam giác



Bài 21 Hình bên có:

..... đoạn thẳng, đó là:

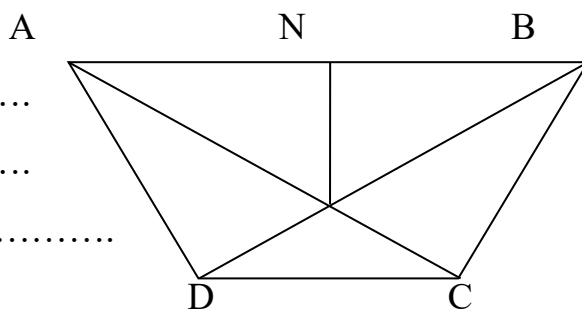
.....

.....

..... điểm, đó là:

..... hình tam giác, đó là:

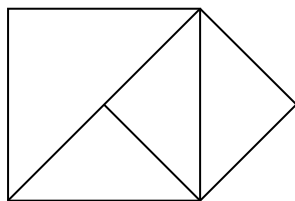
.....



Bài 22 Trong hình bên :

a) Có hình tam giác.

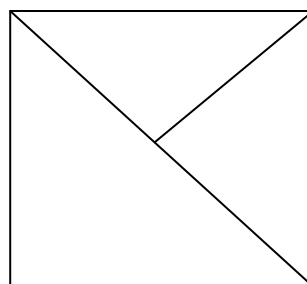
b) Có hình vuông.



Câu 23 Trong hình bên :

a) Có hình tam giác.

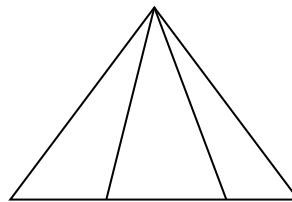
b) Có hình vuông.





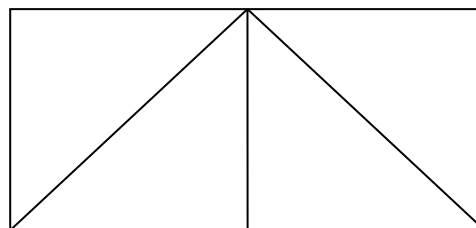
Bài 24 Hình vẽ bên có :

a) hình tam giác?



b) Có hình vuông.

Có hình tam giác.



Bài 25

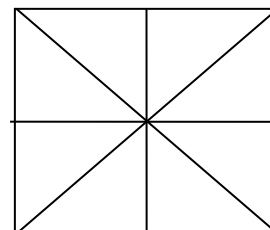
a)

b)

Trong hình vẽ bên có:

..... hình vuông.

..... hình tam giác.



Bài 26 Viết số thích hợp vào chỗ chấm:

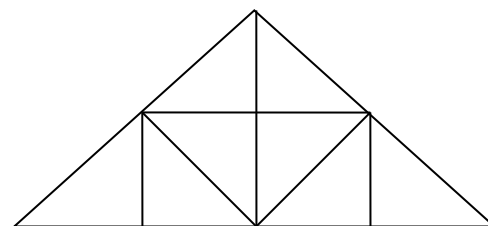
Trong hình vẽ bên có:

a)

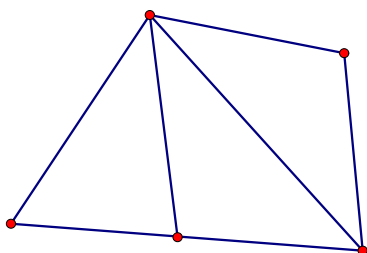
..... hình vuông.

b)

..... hình tam giác.



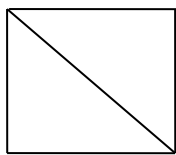
Bài 27 Hình dưới đây:



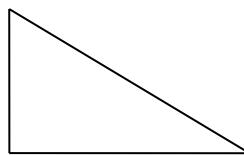
Có hình tam giác

Có đoạn thẳng

Bài 28: Mỗi hình vẽ dưới đây có bao nhiêu đoạn thẳng ?



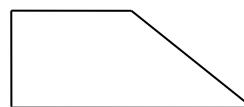
Có đoạn thẳng



Có đoạn thẳng

Bài 30: Vẽ thêm một đoạn thẳng để có:

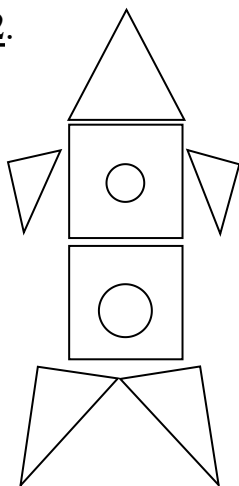
- Một hình vuông và một hình tam giác ?



Bài 31: Vẽ đoạn thẳng MN có độ dài 8 cm?

.....
.....

Bài 32.



Hình vẽ bên có : hình tam giác

..... hình vuông

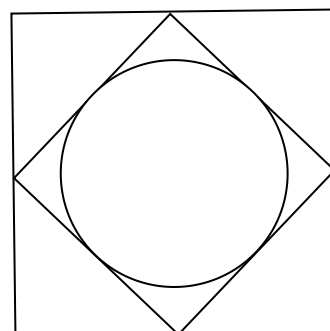
..... hình tròn

Bài 33.Viết số thích hợp vào chỗ chấm :

Hình vẽ bên có : hình tam giác

..... hình tròn

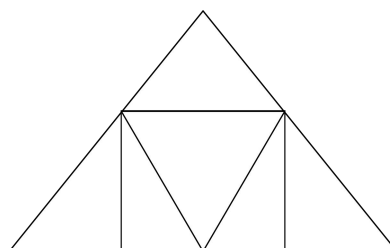
..... hình vuông



Bài 34:

a, Có bao nhiêu hình chữ nhật ?

Có tất cả số hình chữ nhật là





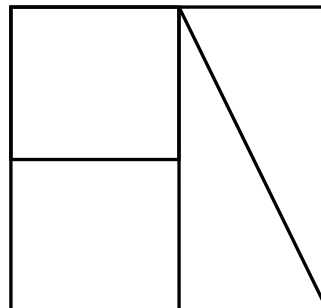
b, Có bao nhiêu hình tam giác ?

Có tất cả số hình tam giác là

Bài 35. Điền số thích hợp vào chỗ chấm.

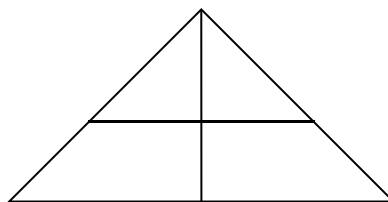
Hình dưới đây có: hình chữ nhật

: hình tam giác



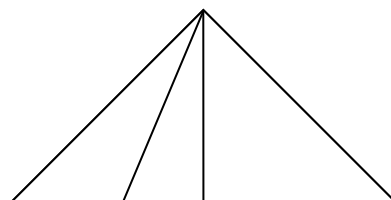
Bài 36. Hình bên gồm :

- a. 4 hình tam giác
- b. 5 hình tam giác
- c. 6 hình tam giác
- d. 7 hình tam giác



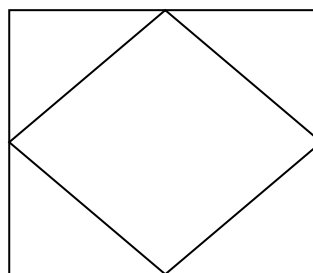
Bài 37. Hình bên gồm :

- a. 4 hình tam giác
- b. 5 hình tam giác
- c. 6 hình tam giác
- d. 7 hình tam giác
- e. 10 tam giác

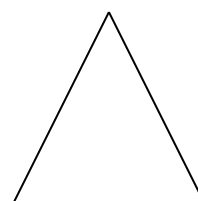




Bài 38. Viết số thích hợp vào chỗ chấm hình vẽ bên có ?

- hình tam giác ?
- hình vuông ?



Bài 39 Viết tên mỗi hình vào chỗ chấm:



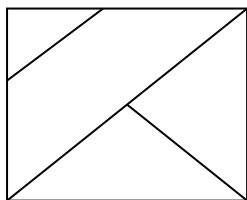


Hình

Hình

Hình

Bài 40.cho hình vẽ



- Trong hình có bao nhiêu hình vuông? Có.....Hình vuông
- Trong hình có bao nhiêu hình tam giác? Có.....Hình tam giác